

Interpolazione

Lucia Gastaldi

DICATAM - Sez. di Matematica,
<http://lucia-gastaldi.unibs.it>



UNIVERSITÀ
DEGLI STUDI
DI BRESCIA

- 1 Interpolazione
- 2 Interpolazione polinomiale
 - Polinomi
 - Valutazione di un polinomio
 - Algoritmo di Horner–Ruffini
 - Errore di approssimazione
 - Nodi di Chebyshev
- 3 Interpolazione a tratti
 - Interpolazione a tratti
 - Spline
 - Le funzioni MATLAB per l'interpolazione

Interpolazione

Problema Dati $n + 1$ punti $(x_i, y_i = f(x_i))$ per $i = 0, 1, \dots, n$ si cerca una **funzione approssimante** $\tilde{f} : \mathbb{R} \rightarrow \mathbb{R}$ tale che

$$\tilde{f}(x_i) = y_i \quad \text{per } i = 0, 1, \dots, n. \quad (1)$$

La funzione \tilde{f} è detta **interpolatore** di f e le condizioni (1) sono dette **condizioni di interpolazione**.

Interpolazione polinomiale

$$\tilde{f}(x) = p(x) = a_0x^n + a_1x^{n-1} + a_2x^{n-2} + \dots + a_{n-1}x + a_n$$

Polinomi

Un polinomio di grado n , con n intero non negativo, è una funzione del tipo

$$p(x) = a_0x^n + a_1x^{n-1} + a_2x^{n-2} + \cdots + a_{n-1}x + a_n = \sum_{j=0}^n a_jx^{n-j}$$

dove $a_j \in \mathbb{R}$, per $j = 0, 1, 2, \dots, n$, sono i coefficienti del polinomio.

Nota bene

Il polinomio è individuato dai coefficienti che devono essere memorizzati in un vettore.

In MATLAB i coefficienti devono essere **ordinati** a partire da quello corrispondente al termine di grado **più elevato** fino a quello di grado zero.

I coefficienti nulli vanno esplicitati.

Ad esempio al polinomio $p(x) = 1 - 2x + 4x^3$ si associa il vettore $c = [4 \ 0 \ -2 \ 1]$.

Algoritmo di Horner–Ruffini

L'algoritmo di Horner–Ruffini permette di calcolare il valore di un polinomio in un punto ad un **costo computazionale** inferiore rispetto all'uso della formula

$$p(x) = a_0x^n + a_1x^{n-1} + a_2x^{n-2} + \dots + a_{n-1}x + a_n = \sum_{i=0}^n a_i x^{n-i}$$

Il polinomio può essere scritto nella forma di Horner:

$$p(x) = (((((a_0x + a_1)x + a_2) \dots)x + a_{n-1})x + a_n.$$

Numero di operazioni

- ▶ Nel primo caso: $n(n+1)/2$ ($1 + 2 + \dots + n$) **moltiplicazioni** + n **somme** per ciascuna componente di x

Totale $\frac{n}{2}(n+3)N$ se N è il numero delle componenti di x

- ▶ Nel secondo caso: n **moltiplicazioni** + n **somme** per ciascuna componente di x

polyval

La function `polyval` valuta il valore di un polinomio usando l'algoritmo di `Horner_Ruffini`.

$$p = \text{polyval}(c, z)$$

Input

- `c` vettore dei coefficienti;
- `z` m punti in cui si vuole calcolare il valore del polinomio.

Output

- `p` valore del polinomio `p` ha dimensione m come `z`.

Quindi per calcolare il valore del polinomio $p(x) = 1 + 2x - 4x^3$ nei punti x_i distribuiti in maniera equispaziata nell'intervallo $[a, b]$ si può usare la seguente sequenza di comandi:

```
>> z=linspace(-1,1,101);  
>> c=[-4 0 2 1];  
>> p=polyval(c,z);
```

Esercizi

Esercizio 1

Riportare in una stessa figura il grafico dei seguenti due polinomi:

$$p_1(x) = 1 - 3x - 4x^2 + 2x^5 \quad x \in [-3/2, 3/2]$$

$$p_2(x) = 2 + 3x - 2x^3 - 3x^4 \quad x \in [-3/2, 3/2]$$

Esercizio 2

Sia x il vettore che contiene i punti dell'intervallo $[0.995, 1.005]$ equispaziati a distanza 10^{-4} (usare `x=.995:1.e-4:1.005`). Fare il grafico del polinomio:

$$p(x) = x^6 - 6x^5 + 15x^4 - 20x^3 + 15x^2 - 6x + 1.$$

Confrontare il grafico ottenuto con quello della funzione $f(x) = (x - 1)^6$ nello stesso intervallo.

Esistenza ed unicità del polinomio interpolatore

Teorema

Per ogni insieme di punti (x_i, y_i) per $i = 0, 1, \dots, n$, con gli x_i distinti tra loro, esiste un unico polinomio di grado n , che indicheremo con Π_n , tale che

$$\Pi_n(x_i) = y_i \quad \text{per } i = 0, 1, \dots, n.$$

Esso viene detto **polinomio interpolatore** dei valori y_i nei **nodi** x_i .

Se per una opportuna funzione si ha $y_i = f(x_i)$ allora indichiamo con $\Pi_n f$ il polinomio interpolatore che **approssima** la funzione f .

polyfit

La function **polyfit** fornisce i coefficienti del polinomio Π_n .

La sintassi di **polyfit** è:

```
c=polyfit(x,y,n)
```

dove **x** contiene i nodi x_i , **y** contiene i valori della funzione y_i e **n** è il **grado** del polinomio interpolatore.

Ad esempio:

```
>> x=0:4;  
>> y=[2 0 -1 -2 1];  
>> c=polyfit(x,y,4)
```

```
c = 0.2083    -1.4167    3.2917    -4.0833    2.0000
```

Per fare il grafico del polinomio interpolatore:

```
>> z=linspace(0,4,51);  
>> p=polyval(c,z);  
>> plot(z,p,x,y,'or')
```

Esercizio 3

Calcolo dei coefficienti del polinomio interpolatore e sua rappresentazione

Si consideri la funzione $f(x) = (1 - x^2) \arctan(x) + e^x$ nell'intervallo $[-4, 4]$. Dati i nodi $x = [-3 \ -1 \ 2 \ 3]$; , usare il comando `polyfit` per trovare i coefficienti del polinomio interpolatore.

Riportare in una stessa figura il grafico del polinomio interpolatore e della funzione f .

Suggerimento

Per ottenere il grafico, valutare il polinomio (usare il comando `polyval`) e la funzione in un numero appropriato di punti equispaziati nell'intervallo dato (usare il comando `linspace`).

Problema di climatologia

La temperatura dell'aria in prossimità del suolo dipende dalla concentrazione K di acido carbonico. Nel file `temp_media.m` in corrispondenza a $K = 0.67$ sono riportate le variazioni della temperatura media che si avrebbero nel globo rispetto alla temperatura media corrispondente ad un valore di riferimento dell'acido carbonico. I valori sono riferiti a diverse latitudini per `lat=-55:10:65`.

- ▶ Calcolare il polinomio di grado 4 utilizzando i dati della variazione di temperatura alle latitudini -55, -25, 5, 35, 65.
- ▶ Riportare in una figura il grafico del polinomio insieme a tutti i valori della variazione di temperatura disponibili.
- ▶ Utilizzare poi tutti i valori disponibili per calcolare il polinomio di grado 12. Confrontare il grafico ottenuto con quello del polinomio di grado 4.

Temperatura massima e minima a Brescia

Un'applicazione prevede che le temperature massime e minime a Brescia nei prossimi 15 giorni siano date dai seguenti valori:

```
Tmax=[20 20 21 21 21 21 21 21 21 19 18 18 17 17 16]  
Tmin=[11 11 14 11 12 11 11 12 11 11 11 11 11 10 10]
```

Costruire due polinomi interpolatori: il primo passa per tutti i valori delle temperature massime, mentre il secondo passa per quelli delle temperature minime.

Rappresentare in uno stesso grafico i due polinomi, in rosso le temperature massime e in blu quelle minime. Completare la grafica con una legenda.

Errore di approssimazione

Teorema: stima dell'errore di interpolazione

Dati $n + 1$ nodi di interpolazione x_i per $i = 0, 1, \dots, n$. Sia f una funzione derivabile con continuità $n + 1$ volte in un intervallo I contenente tutti i nodi di interpolazione e sia Π_n il polinomio interpolatore nei nodi x_i , allora per ogni $x \in I$, esiste un punto $\xi \in I$ tale che

$$E_n(x) = f(x) - \Pi_n(x) = \frac{f^{(n+1)}(\xi)}{(n+1)!} \prod_{i=0}^n (x - x_i).$$

Nel caso di punti equidistanti, con $x_{i+1} = x_i + h$, si ha:

$$|E_n(x)| = |f(x) - \Pi_n(x)| \leq \max_{x \in I} |f^{(n+1)}(x)| \frac{h^{n+1}}{4(n+1)}.$$

Approssimazione di una funzione

Si consideri la seguente funzione $f(x) = e^x$, $x \in [-1, 1]$.

Esercizio 4

- ▶ Interpolare con polinomi di grado $n=2:2:12$, la funzione data, usando $n + 1$ punti equispaziati nell'intervallo $[-1, 1]$.
- ▶ Riportare il grafico di ciascun polinomio interpolatore insieme con quello della funzione data.
- ▶ Calcolare per ciascun valore di n l'errore commesso ossia

$$E_n = \max_{a \leq x \leq b} |f(x) - \Pi_n(x)|$$

Costruire un vettore contenente gli errori ottenuti per ciascun valore di n e riportare gli errori in un grafico in scala semilogaritmica `semilogy(n,E)`.

Traccia per la risoluzione dell'esercizio

1. Assegnare un vettore che contiene i valori di n .
2. Costruire il vettore z dei punti per valutare tutti i polinomi.
3. Valutare la funzione in z (risultato fz).
4. Per ogni valore di n (`for i=1:length(n)`) eseguire la seguente sequenza:
 - ▶ Costruire il vettore x dei nodi con il comando `x=linspace(a,b,n(i)+1)`.
 - ▶ Valutare la funzione nei nodi $y=f(x)$.
 - ▶ Trovare i coefficienti del polinomio con il comando `polyfit`.
 - ▶ Valutare il polinomio nei punti z con il comando `polyval` (risultato p).
 - ▶ Plottare la funzione e il polinomio di grado n (inserire una pausa `pause`).
 - ▶ Calcolare l'errore
$$E(i)=\text{norm}(fz-p,\text{inf})$$
5. Plottare l'errore con il comando `semilogy(n,E)`.

Funzione di Runge

Si consideri la **funzione di Runge** $f(x) = \frac{1}{1+x^2}$, $x \in [-5, 5]$.

Esercizio 5

- ▶ Interpolare con polinomi di grado $n=2:2:12$, la funzione data, usando $n + 1$ punti equispaziati nell'intervallo $[-5, 5]$.
- ▶ Riportare il grafico di ciascun polinomio interpolatore insieme con quello della funzione data.
- ▶ Calcolare per ciascun valore di n l'errore commesso ossia

$$E_n = \max_{a \leq x \leq b} |f(x) - \Pi_n(x)|$$

Costruire un vettore contenente gli errori ottenuti per ciascun valore di n e riportare gli errori in un grafico in scala semilogaritmica `semilogy(n,E)`.

Interpolazione di Chebyshev

Il fenomeno di Runge può essere evitato utilizzando **opportune distribuzioni** di nodi.

Nell'intervallo $[a, b]$ consideriamo i nodi x_i dati da:

$$x_i = \frac{a+b}{2} + \frac{b-a}{2} \hat{x}_i \quad \text{con } \hat{x}_i = -\cos\left(\frac{\pi i}{n}\right), \quad i = 0, \dots, n.$$

I punti $\hat{x}_i \in [-1, 1]$ si dicono **nodii di Chebyshev**.

Teorema di Bernstein

Sia $f : [a, b] \rightarrow \mathbb{R}$ una funzione di classe \mathbf{C}^1 . Sia Π_n il polinomio interpolatore di grado n costruito usando i nodi di Chebyshev.

Allora

$$\lim_{n \rightarrow \infty} \|f - \Pi_n f\|_{\infty} = 0.$$

Calcolo del polinomio con nodi di Chebyshev

Esercizio 6

Calcolare il polinomio di grado 7 che interpola la seguente funzione usando 8 nodi di Chebyshev

$$f(x) = x^2 + \frac{10}{\sin(x) + 1.2} \quad x \in [-2, 8].$$

Usare la seguente istruzione per costruire i nodi di Chebyshev:
`xc=(a+b)/2-(b-a)/2*cos(pi*(0:n)/n)`

Funzione di Runge

Esercizio 7

Per $n=2:2:12$, eseguire le seguenti operazioni:

- ▶ Interpolare la funzione di Runge nell'intervallo $[-5, 5]$ con i polinomi di grado n , costruiti usando $n + 1$ nodi di Chebyshev e $n + 1$ punti equidistanti nell'intervallo $[-5, 5]$.
- ▶ Usando il comando `subplot` riportare 4 grafici contenenti rispettivamente:
 - ▶ la funzione;
 - ▶ la funzione e il polinomio interpolatore con nodi equispaziati;
 - ▶ la funzione e il polinomio interpolatore con nodi di Chebyshev;
 - ▶ la funzione e i due polinomi interpolatori.

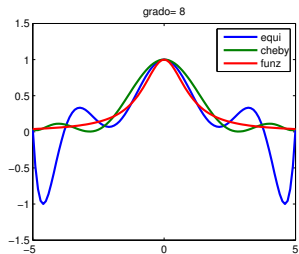
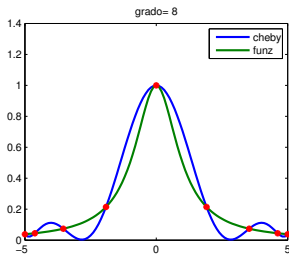
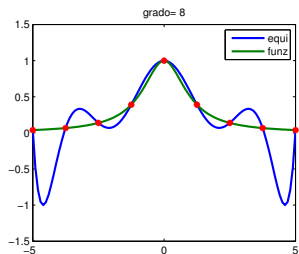
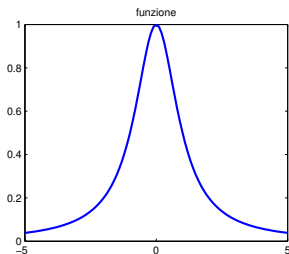
Si veda la figura nella pagina seguente.

- ▶ Calcolare per ciascun valore di n l'errore commesso.

Riportare gli errori per i due polinomi in uno stesso grafico in scala semilogaritmica `semilogy(n, E1, n, E2)`.

Ripetere l'esercizio usando la funzione $f(x) = \sin(x)$ per $x \in [0, 2\pi]$.

Figura



Stabilità del polinomio interpolatore

Esercizio 8

Si consideri la funzione

$$f(x) = \sin(2\pi x) \quad \text{per } x \in [-1, 1].$$

- ▶ Costruire il polinomio interpolatore utilizzando 22 nodi equispaziati x_i , $i = 0, \dots, 21$.
- ▶ Generare un vettore di valori approssimati \hat{y}_i perturbando in maniera casuale i valori $f(x_i)$ in modo tale che

$$\max_{i=0, \dots, 21} |f(x_i) - \hat{y}_i| \approx 10^{-3}.$$

Usare a tale scopo il comando `rand(n,m)` che produce un array di dimensione $n \times m$ di numeri casuali compresi tra 0 e 1.

- ▶ Costruire il polinomio interpolatore utilizzando i valori perturbati.
- ▶ Riportare in uno stesso grafico la funzione data e i due polinomi interpolatori.

Interpolazione a tratti

Dato un intervallo $I = [a, b]$, si introduce una **partizione** mediante un **numero finito** di punti

$$a = x_0 < x_1 < \dots < x_m = b;$$

$I_k = [x_{k-1}, x_k]$, $k = 1, \dots, m$ indica il k -esimo sottointervallo.

Definizione

Si definisce **polinomio a tratti** una funzione $g : [a, b] \rightarrow \mathbb{R}$ tale che

$$g(x) = p_n(x) \quad \forall x \in I_k,$$

essendo $p_n(x)$ un polinomio di grado n .

Interpolazione lineare a tratti

Sia $f : [a, b] \rightarrow \mathbb{R}$ una funzione sufficientemente regolare.

Problema

costruire un polinomio lineare a tratti che interpoli la funzione f nei nodi x_i , $i = 0, \dots, n$.

Consideriamo la partizione dell'intervallo $[x_0, x_n]$ data dai nodi x_i . Quindi su ciascun intervallino $[x_{i-1}, x_i]$ $i = 1, \dots, n$ il polinomio interpolatore a tratti è

$$g(x) = f(x_{i-1}) \frac{x - x_i}{x_{i-1} - x_i} + f(x_i) \frac{x - x_{i-1}}{x_i - x_{i-1}}$$

Stima dell'errore di approssimazione

Sia $H = \max_{1 \leq i \leq n} (x_i - x_{i-1})$. Sia f una funzione continua insieme alle sue derivate prima e seconda. Sia g il polinomio lineare a tratti definito prima.

Per ogni $i = 1, \dots, n$ esiste un punto $\eta_i \in [x_{i-1}, x_i]$ tale che

$$f(x) - g(x) = \frac{f''(\eta_i)}{2} (x - x_{i-1})(x - x_i) \quad \text{per } x \in [x_{i-1}, x_i],$$

da cui segue la seguente maggiorazione:

$$\begin{aligned} & \max_{1 \leq i \leq n} \max_{x_{i-1} \leq x \leq x_i} |f(x) - g(x)| \\ & \leq \max_{1 \leq i \leq n} \frac{(x_i - x_{i-1})^2}{2} \max_{x_{i-1} \leq x \leq x_i} |f''(x)| \leq \frac{H^2}{8} \max_{a \leq x \leq b} |f''(x)|. \end{aligned}$$

Spline

Siano x_i , per $i = 0, \dots, n$, $n + 1$ nodi distinti e ordinati sull'intervallo $[a, b]$, tali che $a = x_0 < x_1 < \dots < x_n = b$.

Definizione

La funzione $s_m : [a, b] \rightarrow \mathbb{R}$ è una **funzione spline** di grado m relativa ai nodi x_i se

- ▶ $s_m(x)$ per $x \in [x_{i-1}, x_i]$, $i = 1, \dots, n$, è un polinomio di grado m .
- ▶ La funzione s_m è continua sull'intervallo $[a, b]$ insieme alle sue derivate fino all'ordine $m - 1$.

La spline più usata è la **spline cubica** s_3 .

Stime dell'errore

$$\max_{x_0 \leq x \leq x_n} |f^{(r)}(x) - s_3^{(r)}(x)| \leq C_r H^{4-r} \max_{x_0 \leq x \leq x_n} |f^{(4)}(x)| \quad r = 0, 1, 2$$

$$\max_{x_0 \leq x \leq x_n} \max_{x \neq \{x_0, \dots, x_n\}} |f^{(3)}(x) - s_3^{(3)}(x)| \leq C_3 H \max_{x_0 \leq x \leq x_n} |f^{(4)}(x)|$$

Le funzioni MATLAB per l'interpolazione

Funzione	Significato
interp1	Interpolazione 1D.
interp2	Interpolazione 2D.
interp3	Interpolazione 3D.
spline	Spline cubica interpolante.
pchip	Interpolazione cubica "shape preserving"
interpft	Interpolazione mediante il metodo FFT.

interp1 e spline

```
yi=interp1(x,y,z,metodo)
```

`x`, `y` specificano le coordinate dei punti di interpolazione.
`z` sono i punti in cui si vuole valutare il valore interpolato.
`metodo` è una stringa di caratteri che specifica il metodo da utilizzare:

- ▶ `metodo='nearest'` si sceglie il valore nel nodo di interpolazione più vicino;
- ▶ `metodo='linear'` interpolazione lineare a tratti;
- ▶ `metodo='spline'` interpolazione con spline cubica;
- ▶ `metodo='pchip'` o `metodo='cubic'` interpolazione di Hermite cubica a tratti shape preserving.

```
s=spline(x,y,z)
```

valuta nei punti `z`, la spline cubica che passa per i punti di ascissa `x` e ordinata `y`.

Confronto fra i diversi metodi di interpolazione

Considerare i seguenti punti:

```
x=1:6;
```

```
y=[16 18 21 17 15 12];.
```

- ▶ Usare l'interpolazione polinomiale e tutti i metodi disponibili nella function `interp1` per interpolare i punti dati.
- ▶ Riportare separatamente i grafici delle funzioni ottenute insieme ai nodi marcati con un pallino. Usare il comando `subplot` per avere tutti i grafici in una stessa finestra.
- ▶ Riportare in una stessa figura il grafico ottenuto con le spline e con il metodo `pchip` (shape preserving piecewise cubic).

Esercizio

Esercizio 9

- ▶ Calcolare l'approssimazione spline e lineare a tratti relative alla funzione di Runge nell'intervallo $[-5, 5]$, usando $n + 1$ punti equidistribuiti nell'intervallo dato essendo $n=2:2:20$. Usare le function `spline` e `interp1`.
- ▶ Calcolare per ciascun valore di n l'errore commesso ossia

$$E_n = \max_{a \leq x \leq b} |f(x) - \Pi_n(x)|$$

Costruire un vettore contenente gli errori ottenuti per ciascun valore di n e riportare gli errori in un grafico in scala bilogarithmica `loglog(n,E)`.

Shape preserving piecewise cubic

Le spline cubiche non conservano le proprietà di monotonia delle funzioni.

Esempio

Per approssimare la semicirconferenza di centro l'origine e raggio 1 costruire i punti di coordinate:

$$x_k = -\cos(k\pi/6), \quad y_k = \sin(k\pi/6) \quad k = 0, \dots, 6.$$

- ▶ Calcolare la spline che interpola tali punti, in un campionamento di punti sufficientemente grande dell'intervallo $[-1, 1]$ (usare il comando `spline`).
- ▶ Riportare su una stessa figura la spline e la semicirconferenza.
- ▶ Osservato che la spline è oscillante intorno alla circonferenza, usare il comando `pchip` per generare un interpolante che conserva le proprietà di monotonia della funzione.